

## Тренировочная работа №2 по ИНФОРМАТИКЕ

9 класс

27 ноября 2019 года

Вариант ИН1990203

Выполнена: ФИО \_\_\_\_\_ класс \_\_\_\_\_

### Инструкция по выполнению работы

Работа по информатике состоит из двух частей, включающих в себя 15 заданий. Часть 1 содержит 10 заданий с кратким ответом; часть 2 содержит 5 заданий, которые необходимо выполнить на компьютере.

На выполнение работы отводится 2 часа 30 минут (150 минут). Вы можете самостоятельно определять время, которое отводите на выполнение заданий, но рекомендуемое время на выполнение заданий части 1 – 30 минут, на выполнение заданий части 2 – 2 часа (120 минут).

Ответы к заданиям 1–12 записываются в виде числа, слова, последовательности символов или цифр. Ответ запишите в поле ответа в тексте работы.

Результатом выполнения каждого из заданий 13–15 является отдельный файл. Формат файла, его имя и каталог для сохранения Вам сообщат организаторы.

При выполнении заданий можно пользоваться черновиком. **Записи в черновике не учитываются при оценивании работы.**

Баллы, полученные Вами за выполненные задания, суммируются.

Постарайтесь выполнить как можно больше заданий и набрать наибольшее количество баллов.

*Желаем успеха!*

**Часть 1**

*Ответами к заданиям 1–10 являются число, слово, последовательность букв или цифр.*

- 1** Статья, набранная на компьютере, содержит 20 страниц, на каждой странице 40 строк, в каждой строке 48 символов. В одном из представлений Unicode каждый символ кодируется двумя байтами. Определите информационный объём статьи в Кбайтах в этом варианте представления Unicode.

Ответ: \_\_\_\_\_.

- 2** Вася и Петя играли в шпионов и кодировали сообщение собственным шифром. Фрагмент кодовой таблицы приведён ниже:

К	Л	М	Н	О	П
@ +	~ +	+ @	@ ~ +	+	~

Определите, из скольких букв состоит сообщение, если известно, что буквы в нём не повторяются:

+ ~ + ~ @ ~ +

Ответ: \_\_\_\_\_.

- 3** Напишите число  $X$ , для которого истинно высказывание:  
( $X < 8$ ) **И НЕ** ( $X < 7$ )

Ответ: \_\_\_\_\_.

- 4 Между населёнными пунктами А, В, С, D, Е, F построены дороги, протяжённость которых (в километрах) приведена в таблице.

	A	B	C	D	E	F
A		3	5			15
B	3			4		
C	5			2		
D		4	2		3	6
E				3		4
F	15			6	4	

Определите длину кратчайшего пути между пунктами А и F. Передвигаться можно только по дорогам, указанным в таблице.

Ответ: \_\_\_\_\_.

- 5 У исполнителя Вычислитель две команды, которым присвоены номера:

1. умножь на 4

2. вычти  $b$

( $b$  – неизвестное натуральное число)

Первая из них увеличивает число на экране в 4 раза, вторая уменьшает его на  $b$ .

Известно, что программа 21122 переводит число 4 в число 28.

Определите значение  $b$ .

Ответ: \_\_\_\_\_.

**6** Ниже приведена программа, записанная на пяти языках программирования.

C++	Python	Паскаль
<pre>#include &lt;iostream&gt; using namespace std;  int main() {     int s, k;     cin &gt;&gt; s;     cin &gt;&gt; k;     if (s &gt; 5    k &gt; 5)         cout &lt;&lt; "ДА";     else         cout &lt;&lt; "НЕТ";     return 0; }</pre>	<pre>s = int(input()) k = int(input()) if s &gt; 5 or k &gt; 5:     print("ДА") else:     print("НЕТ")</pre>	<pre>var s, k: integer; begin     readln(s);     readln(k);     if (s &gt;5) or (k &gt; 5)         then writeln('ДА')         else writeln('НЕТ')     end.</pre>
Алгоритмический язык		Бейсик
<pre>алг нач     цел s, k     ввод s     ввод k     если s &gt; 5 или k &gt; 5         то вывод "ДА"         иначе вывод "НЕТ"     все кон</pre>		<pre>DIM k, s AS INTEGER INPUT s INPUT k IF s &gt; 5 OR k &gt; 5 THEN     PRINT 'ДА' ELSE     PRINT 'НЕТ' END IF</pre>

Было проведено 9 запусков программы, при которых в качестве значений переменных  $s$  и  $k$  вводились следующие пары чисел: (2, 2); (5, 9); (7, -12); (5, 5); (2, 12); (-10, -13); (-11, 11); (1, 4); (2, 6). Сколько было запусков, при которых программа напечатала «ДА»?

Ответ: \_\_\_\_\_.

**7** Файл **winter.jpg** был выложен в интернете по адресу <ftp://weather.info/winter.jpg>. Потом на сайте создали подкаталог **foto**, а в нём – подкаталог **2019**, и файл переместили в подкаталог 2019.

Укажите новый адрес указанного файла.

Ответ: \_\_\_\_\_.

8

В языке запросов поискового сервера для обозначения логической операции «ИЛИ» используется символ «|», а для логической операции «И» – символ «&».

В таблице приведены запросы и количество найденных по ним страниц некоторого сегмента сети. Считается, что все запросы выполнялись практически одновременно, так что набор страниц, содержащих все искомые слова, не изменялся за время выполнения запросов.

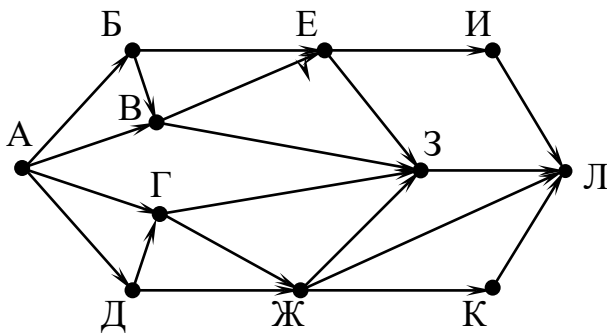
Запрос	Найдено страниц (в тысячах)
<i>Мороз   Солнце</i>	89
<i>Мороз</i>	46
<i>Солнце</i>	59

Какое количество страниц (в тысячах) будет найдено по запросу *Мороз & Солнце*?

Ответ: \_\_\_\_\_.

9

На рисунке – схема дорог, связывающих города А, Б, В, Г, Д, Е, Ж, З, И, К и Л. По каждой дороге можно двигаться только в одном направлении, указанном стрелкой. Сколько существует различных путей из города А в город Л?



Ответ: \_\_\_\_\_.

10

Среди приведённых ниже трёх чисел, записанных в десятичной системе счисления, найдите число, сумма цифр которого в восьмеричной записи наименьшая. В ответе запишите сумму цифр в восьмеричной записи этого числа.

86, 99, 105.

Ответ: \_\_\_\_\_.

**Часть 2**

*Задания этой части (11–15) выполняются на компьютере. Ответами к заданиям 11, 12 являются слово или число. Результатом выполнения заданий 13–15 является отдельный файл (для одного задания – один файл). Формат файла, его имя и каталог для сохранения Вам сообщат организаторы.*

- 11** В одном из произведений А.П. Чехова, текст которого приведён в подкаталоге **Чехов**, встречается девица Подзатылкина. С помощью поисковых средств операционной системы и текстового редактора выясните её любимое имя.

Ответ: \_\_\_\_\_.

- 12** Сколько файлов с расширением .htm содержится в подкаталогах каталога **Поэзия**? В ответе укажите только число.

Ответ: \_\_\_\_\_.

**Выберите ОДНО из предложенных ниже заданий: 13.1 или 13.2.**

**13.1** Используя информацию и иллюстративный материал, содержащийся в каталоге **Barc\_park**, создайте презентацию из трёх-четырёх слайдов на тему «Достопримечательности Барселоны. Парк Гуэль». В презентации должны содержаться краткие иллюстрированные сведения об истории и внешнем виде, парадной лестнице, Зале ста колонн и скамье. Все слайды должны быть выполнены в едином стиле, каждый слайд должен быть озаглавлен, содержать иллюстрации и текст. Презентацию сохраните в файле, имя которого Вам сообщат организаторы.

**13.2** Создайте в текстовом редакторе документ и напишите в нём следующий текст, точно воспроизведя всё оформление текста, имеющееся в образце. Данный текст должен быть написан шрифтом размером 14 пунктов. Основной текст выровнен по ширине, и первая строка абзаца имеет отступ 1 см. В тексте есть слова, выделенные жирным шрифтом, курсивом и подчёркиванием. При этом допустимо, чтобы ширина Вашего текста отличалась от ширины текста в примере, поскольку ширина текста зависит от размера страницы и полей. В этом случае разбиение текста на строки должно соответствовать стандартной ширине абзаца. Текст сохраните в файле, имя которого Вам сообщат организаторы.

---

**Озеро** – компонент гидросферы, представляющий собой естественно возникший водоём, заполненный в пределах озёрной чаши (*озёрного ложа*) водой и не имеющий непосредственного соединения с морем (*океаном*).

Общая площадь озёр земного шара составляет около 1,8 % суши (*примерно 2,7 млн км<sup>2</sup>*).

#### Самые глубокие озёра

Озеро	Глубина, м
Байкал	1741
Танганьика	1435
Каспийское море	1025
Ньяса	706
Верхнее	406
Мичиган	281
Онтарио	236
Ладожское	230
Онежское	230
Титикака	230

14

В электронную таблицу занесли данные олимпиады по математике.

	А	В	С	Д
1	<b>номер участника</b>	<b>номер школы</b>	<b>класс</b>	<b>баллы</b>
2	участник 1	38	8	55
3	участник 2	32	9	329
4	участник 3	30	8	252
5	участник 4	50	8	202

В столбце А записан номер участника; в столбце В – номер школы; в столбце С – класс; в столбце D – набранные баллы.

Всего в электронную таблицу были занесены данные по 1000 участникам.

**Выполните задание**

Откройте файл с данной электронной таблицей (расположение файла Вам сообщат организаторы). На основании данных, содержащихся в этой таблице, ответьте на два вопроса:

1. Сколько девятиклассников набрали более 250 баллов? Ответ на этот вопрос запишите в ячейку Н2 таблицы.
2. Каков средний балл, полученный учениками школы № 3? Ответ на этот вопрос запишите в ячейку Н3 таблицы с точностью не менее двух знаков после запятой.
3. Постройте круговую диаграмму, отображающую соотношение количества участников из 49, 46 и 48 школ. Левый верхний угол диаграммы разместите вблизи ячейки G6.

Полученную таблицу необходимо сохранить под именем, указанным организаторами.



**Выберите ОДНО из предложенных ниже заданий: 15.1 или 15.2.**

**15.1** Исполнитель Робот умеет перемещаться по лабиринту, начерченному на плоскости, разбитой на клетки. Между соседними (по сторонам) клетками может стоять стена, через которую Робот не пройдёт.

У Робота есть девять команд. Четыре команды – это команды-приказы:

**вверх вниз влево вправо**

При выполнении любой из этих команд Робот перемещается на одну клетку соответственно: вверх ↑, вниз ↓, влево ←, вправо →. Если Робот получит команду передвижения сквозь стену, то он разрушится.

Также у Робота есть команда **закрасить**, при которой закрашивается клетка, где Робот находится в настоящий момент.

Ещё четыре команды – это команды проверки условий. Эти команды проверяют, свободен ли путь для Робота в каждом из четырёх возможных направлений:

**сверху свободно снизу свободно слева свободно справа свободно**

Эти команды можно использовать вместе с условием «если», имеющим следующий вид:

**если условие то**

*последовательность команд*

**все**

Здесь *условие* – одна из команд проверки условия.

*Последовательность команд* – это одна или несколько любых команд-приказов.

Например, для передвижения на одну клетку вправо, если справа нет стенки и закрашивания клетки, можно использовать такой алгоритм:

**если справа свободно то**

**вправо**

**закрасить**

**все**

В одном условии можно использовать несколько команд проверки условий, применяя логические связки **и**, **или**, **не**, например:

**если (справа свободно) и (не снизу свободно) то**

**вправо**

**все**

Для повторения последовательности команд можно использовать цикл «пока», имеющий следующий вид:

**нц пока условие**

*последовательность команд*

**кц**

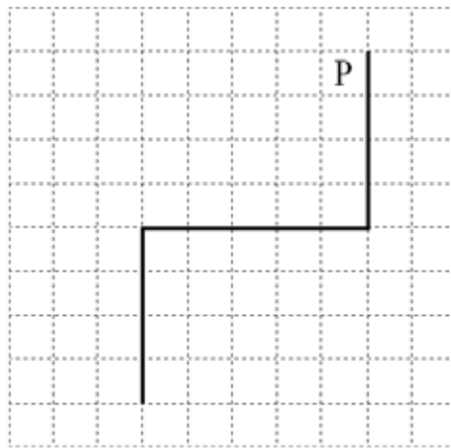
Например, для движения вправо, пока это возможно, следует использовать такой алгоритм:

**нц пока справа свободно  
вправо  
кц**

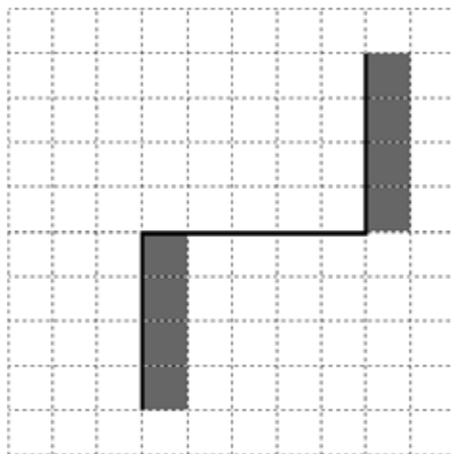
***Выполните задание.***

На бесконечном поле имеются две вертикальные стены и одна горизонтальная, соединяющая нижний конец правой и верхний конец левой вертикальных стен. **Длины стен неизвестны.** Робот находится в клетке, расположенной слева от верхнего края правой вертикальной стены, рядом со стеной.

На рисунке указан один из возможных способов расположения стен и Робота (Робот обозначен буквой «Р»).



Напишите для Робота алгоритм, закрашивающий все клетки, примыкающие к вертикальным стенам справа. Робот должен закрасить только клетки, удовлетворяющие данному условию. Например, для приведённого выше рисунка Робот должен закрасить следующие клетки (см. рисунок).



Конечное расположение Робота может быть произвольным. Алгоритм должен решать задачу для произвольного размера поля и любого допустимого расположения стен внутри прямоугольного поля. При исполнении алгоритма Робот не должен разрушиться, выполнение алгоритма должно завершиться.

Алгоритм может быть выполнен в среде формального исполнителя или записан в текстовом редакторе.

Сохраните алгоритм в формате программы КуМир или в текстовом файле. Название файла и каталог для сохранения Вам сообщат организаторы.

**15.2** Напишите программу, которая в последовательности натуральных чисел находит среднее арифметическое двузначных чисел или сообщает, что таких чисел нет (выводит «NO»). Программа получает на вход натуральные числа, количество введённых чисел неизвестно, последовательность чисел заканчивается числом 0 (0 – признак окончания ввода, не входит в последовательность).

Количество чисел не превышает 100. Введённые числа не превышают 300. Программа должна вывести среднее арифметическое двузначных чисел или вывести «NO», если таких чисел нет. Значение выводить с точностью до десятых.

**Пример работы программы:**

<b>Входные данные</b>	<b>Выходные данные</b>
10 120 49 0	29.5
111 1 0	NO

## Тренировочная работа №2 по ИНФОРМАТИКЕ

9 класс

27 ноября 2019 года

Вариант ИН1990204

Выполнена: ФИО \_\_\_\_\_ класс \_\_\_\_\_

### Инструкция по выполнению работы

Работа по информатике состоит из двух частей, включающих в себя 15 заданий. Часть 1 содержит 10 заданий с кратким ответом; часть 2 содержит 5 заданий, которые необходимо выполнить на компьютере.

На выполнение работы отводится 2 часа 30 минут (150 минут). Вы можете самостоятельно определять время, которое отводите на выполнение заданий, но рекомендуемое время на выполнение заданий части 1 – 30 минут, на выполнение заданий части 2 – 2 часа (120 минут).

Ответы к заданиям 1–12 записываются в виде числа, слова, последовательности символов или цифр. Ответ запишите в поле ответа в тексте работы.

Результатом выполнения каждого из заданий 13–15 является отдельный файл. Формат файла, его имя и каталог для сохранения Вам сообщат организаторы.

При выполнении заданий можно пользоваться черновиком. **Записи в черновике не учитываются при оценивании работы.**

Баллы, полученные Вами за выполненные задания, суммируются.

Постарайтесь выполнить как можно больше заданий и набрать наибольшее количество баллов.

***Желаем успеха!***

## Часть 1

*Ответами к заданиям 1–10 являются число, слово, последовательность букв или цифр.*

- 1** Статья, набранная на компьютере, содержит 10 страниц, на каждой странице 32 строки, в каждой строке 48 символов. В одном из представлений Unicode каждый символ кодируется 16 битами. Определите информационный объём статьи в Кбайтах в этом варианте представления Unicode.

Ответ: \_\_\_\_\_.

- 2** Вася и Петя играли в шпионов и кодировали сообщение собственным шифром. Фрагмент кодовой таблицы приведён ниже:

Ж	З	И	Й	К	Л
+ #	+ ^ #	#	^	^ #	# +

Определите, из скольких букв состоит сообщение, если известно, что буквы в нём не повторяются:

# + + ^ # # ^ # ^

Ответ: \_\_\_\_\_.

- 3** Напишите число  $X$ , для которого истинно высказывание:  
**НЕ** ( $X < 6$ ) **И** ( $X < 7$ )?

Ответ: \_\_\_\_\_.

- 4 Между населёнными пунктами А, В, С, D, Е, F построены дороги, протяжённость которых (в километрах) приведена в таблице.

	A	B	C	D	E	F
A		3	4			18
B	3		3			
C	4	3		4		
D			4		2	6
E				2		1
F	18			6	1	

Определите длину кратчайшего пути между пунктами А и F. Передвигаться можно только по дорогам, указанным в таблице.

Ответ: \_\_\_\_\_.

- 5 У исполнителя Вычислитель две команды, которым присвоены номера:

1. умножь на 4

2. вычти  $b$

( $b$  – неизвестное натуральное число)

Первая из них увеличивает число на экране в 4 раза, вторая уменьшает его на  $b$ .

Известно, что программа 12212 переводит число 3 в число 21.

Определите значение  $b$ .

Ответ: \_\_\_\_\_.

6 Ниже приведена программа, записанная на пяти языках программирования.

C++	Python	Паскаль
<pre>#include &lt;iostream&gt; using namespace std;  int main() {     int s, k;     cin &gt;&gt; s;     cin &gt;&gt; k;     if (s &lt; 5    k &lt; 5)         cout &lt;&lt; "ДА";     else         cout &lt;&lt; "НЕТ";     return 0; }</pre>	<pre>s = int(input()) k = int(input()) if s &lt; 5 or k &lt; 5:     print("ДА") else:     print("НЕТ")</pre>	<pre>var s, k: integer; begin     readln(s);     readln(k);     if (s &lt; 5) or (k &lt; 5)     then writeln('ДА')     else writeln('НЕТ') end.</pre>
Алгоритмический язык		Бейсик
<pre>алг нач     цел s, k     ввод s     ввод k     если s &lt; 5 или k &lt; 5     то вывод "ДА"     иначе вывод "НЕТ" все кон</pre>		<pre>DIM k, s AS INTEGER INPUT s INPUT k IF s &lt; 5 OR k &lt; 5 THEN     PRINT 'ДА' ELSE     PRINT 'НЕТ' END IF</pre>

Было проведено 9 запусков программы, при которых в качестве значений переменных  $s$  и  $k$  вводились следующие пары чисел: (2, 2); (5, 9); (7, -12); (5, 5); (2, 12); (-10, -13); (-11, 11); (1, 4); (2, 6). Сколько было запусков, при которых программа напечатала «ДА»?

Ответ: \_\_\_\_\_.

7 Файл **may.jpeg** был выложен в интернете по адресу <http://spring.info/may.jpeg>. Потом на этом сайте создали подкаталог **months** и файл переместили в этот подкаталог.

Укажите новый адрес указанного файла.

Ответ: \_\_\_\_\_.

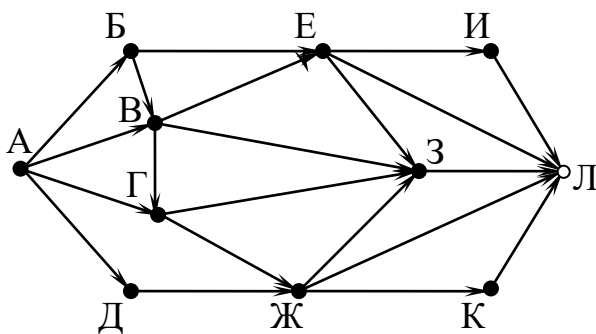
- 8** В языке запросов поискового сервера для обозначения логической операции «ИЛИ» используется символ «|», а для логической операции «И» – символ «&». В таблице приведены запросы и количество найденных по ним страниц некоторого сегмента сети. Считается, что все запросы выполнялись практически одновременно, так что набор страниц, содержащих все искомые слова, не изменялся за время выполнения запросов.

Запрос	Найдено страниц (в тысячах)
<i>День   Чудесный</i>	95
<i>День</i>	55
<i>Чудесный</i>	48

Какое количество страниц (в тысячах) будет найдено по запросу *День & Чудесный*?

Ответ: \_\_\_\_\_.

- 9** На рисунке – схема дорог, связывающих города А, Б, В, Г, Д, Е, Ж, З, И, К и Л. По каждой дороге можно двигаться только в одном направлении, указанном стрелкой. Сколько существует различных путей из города А в город Л?



Ответ: \_\_\_\_\_.

- 10** Среди приведённых ниже трёх чисел, записанных в десятичной системе счисления, найдите число, сумма цифр которого в восьмеричной записи наименьшая. В ответе запишите сумму цифр в восьмеричной записи этого числа.  
55, 83, 91.

Ответ: \_\_\_\_\_.



**Часть 2**

*Задания этой части (11–15) выполняются на компьютере. Ответами к заданиям 11, 12 являются слово или число. Результатом выполнения заданий 13–15 является отдельный файл (для одного задания – один файл). Формат файла, его имя и каталог для сохранения Вам сообщат организаторы.*

- 11** В одном из произведений А.П.Чехова, текст которого приведён в подкаталоге **Чехов**, встречается фраза «Нет, не люблю я телеграфа, не люблю». С помощью поисковых средств операционной системы и текстового редактора выясните, кому принадлежит эта фраза.

Ответ: \_\_\_\_\_.

- 12** Сколько файлов с расширением .txt содержится в подкаталогах каталога **Поэзия**? В ответе укажите только число.

Ответ: \_\_\_\_\_.

**Выберите ОДНО из предложенных ниже заданий: 13.1 или 13.2.**

**13.1** Используя информацию и иллюстративный материал, содержащийся в каталоге **Barcelona Park**, создайте презентацию из **трёх-четырёх** слайдов на тему «Достопримечательности Барселоны. Парк Гуэль». В презентации должны содержаться краткие иллюстрированные сведения об истории и внешнем виде, парадной лестнице, Зале ста колонн и скамье. Все слайды должны быть выполнены в едином стиле, каждый слайд должен быть озаглавлен, содержать иллюстрации и текст. Презентацию сохраните в файле, имя которого Вам сообщат организаторы.

**13.2** Создайте в текстовом редакторе документ и напишите в нём следующий текст, точно воспроизведя всё оформление текста, имеющееся в образце. Данный текст должен быть написан шрифтом размером 14 пунктов. Основной текст выровнен по ширине, и первая строка абзаца имеет отступ 1 см. В тексте есть слова, выделенные жирным шрифтом, курсивом и подчёркиванием. При этом допустимо, чтобы ширина Вашего текста отличалась от ширины текста в примере, поскольку ширина текста зависит от размера страницы и полей. В этом случае разбиение текста на строки должно соответствовать стандартной ширине абзаца. Текст сохраните в файле, имя которого Вам сообщат организаторы.

**Озеро** – компонент гидросферы, представляющий собой естественно возникший водоём, заполненный в пределах озёрной чаши (*озёрного ложа*) водой и не имеющий непосредственного соединения с морем (*океаном*).

Общая площадь озёр земного шара составляет около 1,8 % суши (*примерно 2,7 млн км<sup>2</sup>*).

**Самые глубокие озёра**

Озеро	Глубина, м
Байкал	1741
Танганьика	□435
Каспийское море	1025
Ньяса	706
Верхнее	406
Мичиган	281
Онтарио	236
Ладожское	230
Онежское	230
Титикака	230

**14**

В электронную таблицу занесли данные олимпиады по математике.

	<b>А</b>	<b>В</b>	<b>С</b>	<b>Д</b>
<b>1</b>	<b>номер участника</b>	<b>номер школы</b>	<b>класс</b>	<b>баллы</b>
2	участник 1	38	8	55
3	участник 2	32	9	329
4	участник 3	30	8	252
5	участник 4	50	8	202

В столбце А записан номер участника; в столбце В – номер школы; в столбце С – класс; в столбце D – набранные баллы.

Всего в электронную таблицу были занесены данные по 1000 участникам.

***Выполните задание***

Откройте файл с данной электронной таблицей (расположение файла Вам сообщат организаторы). На основании данных, содержащихся в этой таблице, ответьте на два вопроса:

1. Сколько восьмиклассников набрали более 210 баллов? Ответ на этот вопрос запишите в ячейку Н2 таблицы.
2. Каков средний балл, полученный учениками школы № 2? Ответ на этот вопрос запишите в ячейку Н3 таблицы с точностью не менее двух знаков после запятой.
3. Постройте круговую диаграмму, отображающую соотношение количества участников из 7, 8 и 9 классов. Левый верхний угол диаграммы разместите вблизи ячейки G6.

Полученную таблицу необходимо сохранить под именем, указанным организаторами.

**Выберите ОДНО из предложенных ниже заданий: 15.1 или 15.2.**

**15.1** Исполнитель Робот умеет перемещаться по лабиринту, начерченному на плоскости, разбитой на клетки. Между соседними (по сторонам) клетками может стоять стена, через которую Робот не пройдёт.

У Робота есть девять команд. Четыре команды – это команды-приказы:

**вверх вниз влево вправо**

При выполнении любой из этих команд Робот перемещается на одну клетку соответственно: вверх ↑, вниз ↓, влево ←, вправо →. Если Робот получит команду передвижения сквозь стену, то он разрушится.

Также у Робота есть команда **закрасить**, при которой закрашивается клетка, где Робот находится в настоящий момент.

Ещё четыре команды – это команды проверки условий. Эти команды проверяют, свободен ли путь для Робота в каждом из четырёх возможных направлений:

**сверху свободно снизу свободно слева свободно справа свободно**

Эти команды можно использовать вместе с условием «если», имеющим следующий вид:

**если условие то**

*последовательность команд*

**все**

Здесь *условие* – одна из команд проверки условия.

*Последовательность команд* – это одна или несколько любых команд-приказов.

Например, для передвижения на одну клетку вправо, если справа нет стенки и закрашивания клетки, можно использовать такой алгоритм:

**если справа свободно то**

**вправо**

**закрасить**

**все**

В одном условии можно использовать несколько команд проверки условий, применяя логические связки **и**, **или**, **не**, например:

**если (справа свободно) и (не снизу свободно) то**

**вправо**

**все**

Для повторения последовательности команд можно использовать цикл «пока», имеющий следующий вид:

**нц пока условие**

*последовательность команд*

**кц**

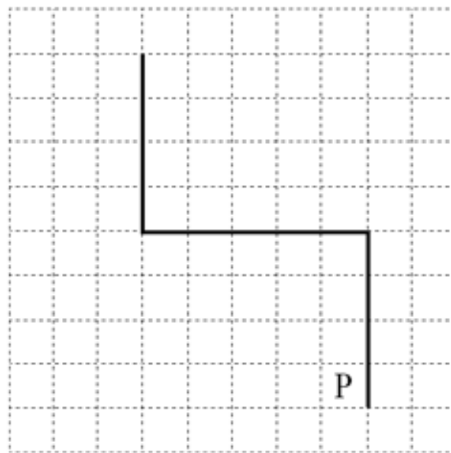
Например, для движения вправо, пока это возможно, следует использовать такой алгоритм:

**нц пока справа свободно  
вправо  
кц**

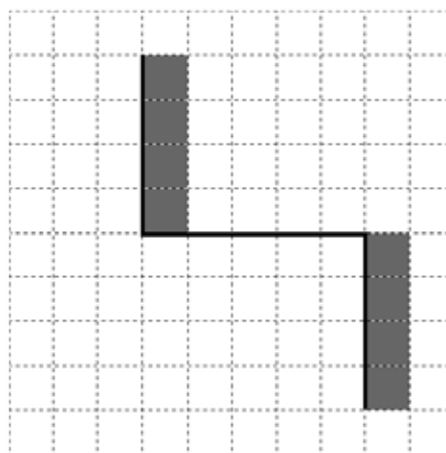
***Выполните задание.***

На бесконечном поле имеются две вертикальные стены и одна горизонтальная, соединяющая нижний конец левой и верхний конец правой вертикальных стен. **Длины стен неизвестны.** Робот находится в клетке, расположенной слева от нижнего края правой вертикальной стены, рядом со стеной.

На рисунке указан один из возможных способов расположения стен и Робота (Робот обозначен буквой «Р»).



Напишите для Робота алгоритм, закрашивающий все клетки, примыкающие к вертикальным стенам справа. Робот должен закрасить только клетки, удовлетворяющие данному условию. Например, для приведённого выше рисунка Робот должен закрасить следующие клетки (см. рисунок).



Конечное расположение Робота может быть произвольным. Алгоритм должен решать задачу для произвольного размера поля и любого допустимого расположения стен внутри прямоугольного поля. При исполнении алгоритма Робот не должен разрушиться, выполнение алгоритма должно завершиться.

Алгоритм может быть выполнен в среде формального исполнителя или записан в текстовом редакторе.

Сохраните алгоритм в формате программы КуМир или в текстовом файле. Название файла и каталог для сохранения Вам сообщат организаторы.

- 15.2** Напишите программу, которая в последовательности натуральных чисел находит среднее арифметическое чисел, кратных 8, или сообщает, что таких чисел нет (выводит «NO»). Программа получает на вход натуральные числа, количество введённых чисел неизвестно, последовательность чисел заканчивается числом 0 (0 – признак окончания ввода, не входит в последовательность).  
Количество чисел не превышает 100. Введённые числа не превышают 300. Программа должна вывести среднее арифметическое чисел, кратных 8, или вывести «NO», если таких чисел нет. Значение выводить с точностью до десятых.

**Пример работы программы:**

Входные данные	Выходные данные
8 122 64 16 0	29.3
111 1 0	NO